

ВСЕРОССИЙСКАЯ ОЛИМПИАДА ШКОЛЬНИКОВ  
ОБЩЕСТВОЗНАНИЕ. 2024–2025 уч. г.  
ШКОЛЬНЫЙ ЭТАП. 10 КЛАСС  
Максимальный балл за работу – 67.

**Задание 1. Верны ли следующие утверждения?**


1. На протяжении большей части экономической истории понятия «экономический рост» не существовало.
2. В Российской Федерации установление федеральных налоговых льгот зависит от гражданства налогоплательщика и места происхождения капитала.
3. Социологи относят людей, попавших в другую этническую среду, к категории этномаргиналов.
4. В отличие от федераций, в унитарных государствах существование автономных территориальных образований недопустимо.
5. Процесс десоциализации может носить как негативный, так и позитивный характер.

**Ответ:**

1	2	3	4	5
да	нет	да	нет	да

5

**Задание 2. Выберите верные утверждения, соответствующие содержанию картины А. А. Кириллова «Ликбез».**



1. Изображённый на картине вид деятельности является творчеством.
2. Главной функцией социального института, представленного на картине, является познание и объяснение законов устройства и развития мира.
3. Представленная на картине малая группа основана на браке и кровном родстве.
4. Мероприятия, иллюстрацией которых является представленная картина, в советском государстве носили массовый характер в 1920–1930 гг.
5. Сюжет картины несёт одну из отличительных черт постиндустриального общества.
6. Характерной чертой представленного на картине социального института в современном мире является непрерывность на протяжении всей жизни человека.
7. На картине отсутствует проявление гендерной и возрастной дискриминации.

6 Ответ: 4, 6, 7



**Задание 3. Решите логическую задачу.**

**Анфиса пролила на тетрадь кофе. Помогите ей восстановить условия задания, подобрав вторую посылку. Обратите внимание на то, что заключение может быть верным, даже если одна из посылок избыточна.**

**Посылка 1.** Ни одна тихоходка не брыляет.

**Посылка 2.** \_\_\_\_\_

**Заключение.** Некоторые многоножки не брыляют.

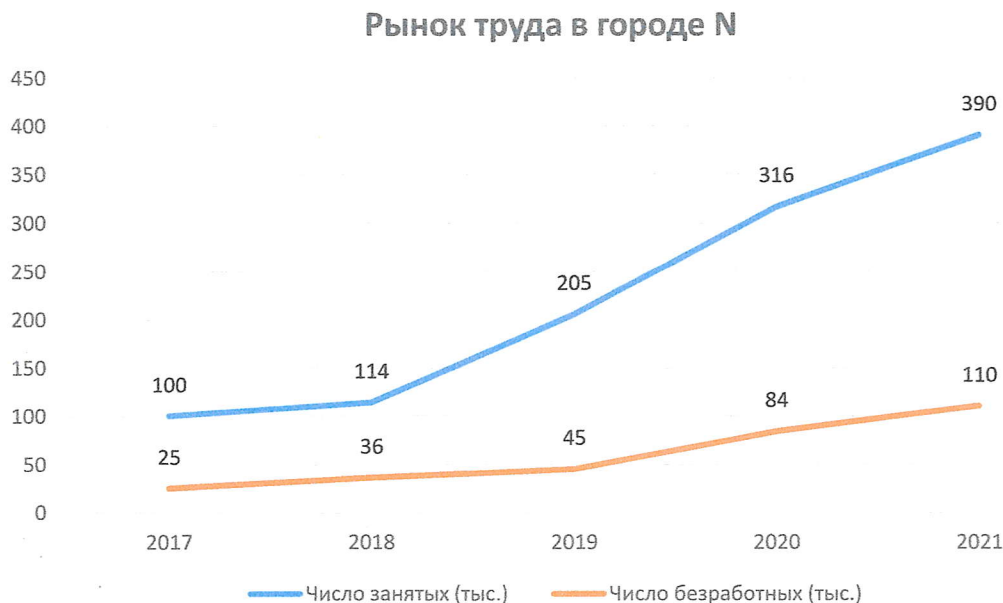
**Выберите из списка все утверждения, которые, если их подставить вместо посылки 2, позволяют сделать логически корректное заключение, представленное выше.**

1. Если кто-то не брыляет, то он не тихоходка.
2. Если кто-то многоножка, то он тихоходка.
3. Все многоножки брыляют.
4. Не все многоножки – тихоходки.
5. Не все тихоходки не брыляют.
6. Все тихоходки – многоножки.
7. Тихоходки брыляют.
8. Некоторые тихоходки брыляют.

4 **Ответ:** 2, 6

**Задание 4 (4-6). Решите экономическую задачу.**

На приведённом ниже графике отражена ситуация на рынке труда в городе N за 2017–2021 гг. Ознакомьтесь с представленными материалами и ответьте на вопросы.



**4.1 (4). Установите соответствие между характеристиками и годами. Обратите внимание на то, что разным вариантам из левого столбца может соответствовать один и тот же вариант из правого.**

Характеристики	Год
А. Достигнут минимальный уровень безработицы	1. 2017
Б. Достигнут максимальный уровень безработицы	2. 2018
В. Уровень безработицы вырос сильнее всего по сравнению с прошлым годом (в процентных пунктах)	3. 2019
Г. Достигнута максимальная численность рабочей силы	4. 2020
Д. Достигнута минимальная численность рабочей силы	5. 2021

**Ответ:**

5

А	Б	В	Г	Д
3	2	2	5	1

**1 4.2 (5). Укажите минимальное значение уровня безработицы (в процентах) в городе N за 2017–2021 гг.**

**Ответ:** 18

**1 4.3 (6). Укажите максимальное значение уровня безработицы (в процентах) в городе N за 2017–2021 гг.**

**Ответ:** 23<sup>1</sup>/<sub>4</sub>



**Задание 5 (7). Решите правовую задачу.**

**В юриспруденции существует классификация юридических фактов как оснований гражданских правоотношений в зависимости от связи с волей субъекта. Соотнесите приведённые ниже примеры с видами юридических фактов, к которым их можно отнести.**

А) Во время учёбы в сельскохозяйственной академии в Москве Иван Лаптев познакомился с милой девушкой Лизой. Всё свободное время они старались проводить вместе.	1. события
Б) Вскоре после окончания обучения Иван Лаптев оформил брак с Елизаветой.	2. юридические акты
В) Вернувшись в свой посёлок, Иван Лаптев организовал фермерское хозяйство: занялся разведением домашнего скота и птицы.	3. юридические поступки
Г) В N-ской области произошла вспышка птичьего гриппа. В результате в фермерском хозяйстве Ивана Лаптева было уничтожено всё поголовье домашней птицы.	4. действия, не являющиеся юридическими фактами
Д) После уничтожения поголовья домашней птицы Иван Лаптев заключил договор с ООО «Птицелов» на закупку 2000 цыплят-бройлеров.	
Е) Жена Ивана, Елизавета, занималась ведением домашнего хозяйства и воспитанием детей.	
Ж) Лиза часто рассказывала детям истории, которые придумывала сама. Впоследствии женщина стала вести свой блог и размещать придуманные для детей истории.	
З) Вскоре с Елизаветой Лаптевой связался издатель и предложил выпустить серию детских книг.	

**Ответ:**

А	Б	В	Г	Д	Е	Ж	З
3	2	2	1	2	4	3	4

**Задание 6 (8-10). Ознакомьтесь с инфографикой и выполните задания.**

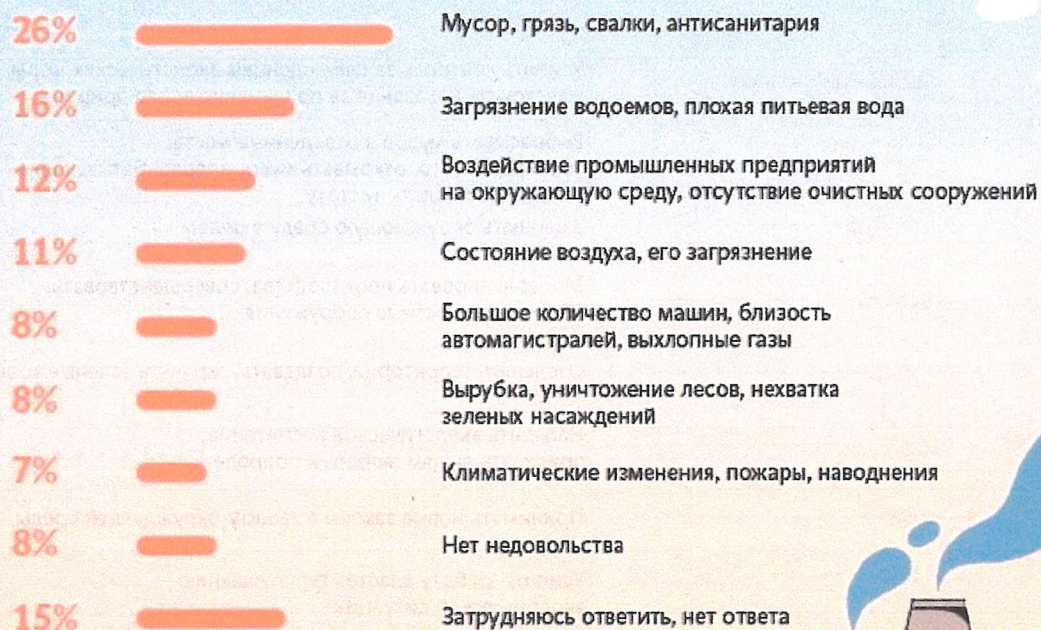
58% россиян считают, что экологическая ситуация в стране в последние годы ухудшается (24% думают, что ничего не меняется, 11% – что положение дел улучшается). Больше всего людей беспокоят мусор и свалки, грязные водоемы и плохая питьевая вода, выбросы предприятий и плохое состояние воздуха. Мнения о том, делают ли что-нибудь россияне для защиты окружающей среды, разделились поровну (по 46%). Но в ближнем окружении людей, судя по опросу, экологичное поведение распространено довольно широко.





## Что в экологической ситуации больше всего беспокоит вас в последнее время?

(Открытый вопрос. Приведены ответы, набравшие не меньше 2%)





## Как вы думаете, что российские власти должны делать в первую очередь для защиты окружающей среды?



(Открытый вопрос. Приведены ответы, набравшие не меньше 2%)





## Что из перечисленного вам лично приходилось делать в последний год?

(Карточка, любое число ответов)



**6.1 (8). На основании данных инфографики соотнесите начала предложений и их окончания.**

**Возможные начала**

- А. Беспокойство в связи с ситуацией, связанной с уборкой мусора...
- Б. Ухудшение экологической ситуации в России в последнее время...
- В. Практически равные доли опрошенных ответили...
- Г. Доля опрошенных, считающих необходимыми действиями со стороны властей очистку водоёмов...
- Д. В качестве действий по охране окружающей среды реже всего респонденты...
- Е. Больше половины респондентов...

**Возможные окончания**

- 1. ...что сэкономили воду и электричество в течение последнего года.
- 2. ...высказал каждый третий опрошенный.
- 3. ...отметили ухудшение экологической обстановки в России в последнее время.
- 4. ...выбирали экологическое образование.
- 5. ...высказал практически каждый четвёртый респондент.
- 6. ...больше доли выступающих за озеленение территорий и создание парковых зон.
- 7. ...отметил почти каждый десятый опрошенный.
- 8. ...не беспокоит современное общество.
- 9. ... не смогли дать ответы на поставленные вопросы.
- 10. ...примерно равна доле выступавших за защиту окружающей среды в целом.
- 11. ... выбирали участие в экологических акциях и митингах.
- 12. ...считают экологическую ситуацию в России неизменной.
- 13. ...меньше, чем доля опрошенных, считающих, что властям следует принимать новые законы в защиту окружающей среды.

**Ответ.**

А	Б	В	Г	Д	Е
5	6	1	13	11	3



**6.2 (9).** Практически все респонденты связали причины неблагоприятной экологической ситуации и пути решения данной проблемы с одним фактором, в основе которого лежит деятельность человека. Назовите данный фактор.

антропогенный  
антропоморфный  
гуманитарный  
геогенный  
атропофобный

1 Ответ:

~~антропогенный~~  
антропогенный

**6.3 (10).** Укажите процент опрошенных, которым пришлось решать экологические проблемы в течение последнего года путем реализации своих политических прав.

1 Ответ: 4

**Задание 7 (11-18).** Прочитайте текст и выполните задания.

(I) Один из ключевых демографических трендов этого столетия – старение населения: люди во многих странах стали жить заметно дольше, а детей заводить – меньше. По данным ООН, доля населения старше 60 лет с 1960-х гг. выросла в мире почти вдвое – до 13 %, а темпы роста населения сократились с 2 % в год до чуть менее 1 %. Ещё через 25 лет, по прогнозу ООН, рост населения замедлится всего до 0,5 % в год, а доля людей старших возрастов достигнет 20 %. Долгосрочная связь роста ВВП с численностью населения и трудовыми ресурсами не вызывает сомнений. В конце концов, экономика – это прежде всего люди, а экстенсивный рост ещё никто не отменял. Мультипликатор роста рабочей силы, т. е. его влияние на рост ВВП, как правило, оценивается ниже 1, но часто около 0,5 или выше (безусловно, рост совокупного ВВП не всегда означает рост ВВП на душу населения). Но есть и более сложные взаимосвязи.

(II) Существует множество исследований о связи роста экономики с изменением численности населения, в том числе с коэффициентом демографической нагрузки – отношения трудоспособного населения к населению младших и старших возрастов. Наши оценки показали, что быстрее всего растут не столько экономики с наибольшим приростом населения, сколько страны с наименьшей демографической нагрузкой: слишком большая доля детей, как и пенсионеров, становится бременем для экономики.

(III) Дефицит рабочей силы, которой не хватает не только для роста и развития, но и для обеспечения растущего населения самых старших возрастов, уже заметен во многих странах мира. Он выражается в снижении безработицы. В этих условиях всё больше стран начинают полагаться на внешнюю рабочую силу – привлекая мигрантов и перенося производства в другие страны (или

используя международный аутсорсинг). Предложение труда развивающимися странами не оскудевает в том числе благодаря сохраняющемуся значительному финансовому стимулу: по данным МВФ, средний уровень ВВП на душу населения развитых стран более чем в 8 раз выше, чем стран с формирующимися рынками. Переток рабочей силы и производственных мощностей между странами является одним из двигателей экономической конвергенции. Также он способствует синхронизации финансового цикла, важной переменной в динамике валют, т. е. имеет и плюсы, и определённые «побочные эффекты».

(IV) Исходя из демографического прогноза можно предположить, что миграционные потоки останутся устойчивыми. Они могут выполнять роль универсального «клея» для экономик всех групп стран, сделав невозможной сколько-либо устойчивую или масштабную деглобализацию, о которой так много говорят в последние годы. Вместе с тем повышение конкуренции за рабочую силу (что отчасти будет сглаживаться технологическим прогрессом, но вряд ли будет им нивелировано) может быть и источником геополитической напряжённости, и глобальным вызовом.

(V) О связи демографии с инфляцией идут большие споры. С одной стороны, в развитых экономиках, которые одновременно являются и странами с наиболее стареющим населением, в среднем наиболее низкая инфляция. Исследования показывают, что жители этих стран больше других предпочитают стабильность, у них длинные горизонты планирования, в этих экономиках ниже рост потребления. С другой стороны, как уже говорилось выше, в стареющих обществах растёт дефицит труда при сжатии доли молодых поколений, а это уже может, наоборот, давить на зарплаты в сторону повышения и увеличивать инфляционные риски.

(VI) С учётом этих противоположных факторов неоднозначна и связь демографии с устойчивым уровнем процентных ставок. Однако наблюдения по широкой группе стран показывают, что по мере демографического перехода – от «молодого» к «зрелому» обществу – при снижении коэффициента рождаемости, удлинении старости, росте доли людей старших трудоспособных возрастов общество формирует больше внутренних сбережений, а значит, как правило, сокращается потребность во внешних займах и снижается процентная ставка.

(VII) Помимо демографии на инфляцию и ставки в последние десятилетия всё сильнее влияли распространение режима таргетирования инфляции, а также такие тренды, как замедление прироста производительности труда и снижение чувствительности инвесторов к риску.

(VIII) Рост внутренних сбережений и снижение процентных ставок должны быть благоприятны для фондового рынка и способствовать росту цен на активы (например, недвижимость). В этом смысле старение населения может быть неплохим периодом для развития финансового рынка. Для него ключевую роль играет не численность рабочей силы или изменение среднего возраста населения, а ситуация в группе потенциально самых активных сберегателей и



инвесторов – от 35–40 до 60–65 лет. Более молодые люди могут тратить относительно бóльшую часть своего дохода или более активно занимать (в том числе брать ипотеку), а поколения старше 60–65 лет выходят на пенсию и начинают скорее тратить сбережения, чем наращивать их.

(IX) Ещё 3–5 десятилетий назад демографы были в большей степени озабочены проблемами избыточного роста населения. Сейчас же рост доли людей в возрасте, снижение рождаемости и, наконец, сжатие общего населения во многих странах создают новые вызовы для экономической политики. Рецепты ускоренного экономического роста «былых времен» (например, опыт «азиатских тигров») перестают работать для развивающихся стран. В эпоху старения и сокращения трудоспособного населения они неактуальны, нужны новые рецепты.

*По С.*

*Донец.*

*Текст взят с просветительского сайта РЭШ  
GURU*

**7.1 (11).** Сегодня популярность набирают компании-подрядчики, представляющие услуги различных специалистов: от клининга до менеджмента. Например, Сбербанк передал внешнему провайдеру создание проекта по медийному размещению, открытию новых офисов и филиалов, что существенно сократило штат и снизило расходы. Укажите номер абзаца, в котором употребляется термин, характеризующий данное явление.

2 Ответ: 3

**7.2 (12).** Выберите суждения, в которых речь идёт об упомянутых автором трендах, связывающих демографию и экономику.

А. Наиболее значительный экономический рост показывают страны, находящиеся в промежуточном состоянии – между «молодыми» и «старыми», т. е. имеющими наименьшую демографическую нагрузку.

Б. Между показателями численности населения и экономического роста наблюдается прямая корреляция, несмотря на отсутствие причинно-следственной связи между этими переменными.

В. Снижение численности трудоспособного населения в ряде стран влечёт снижение предложения на рынке труда, что подталкивает производителей к привлечению внешней рабочей силы.

Г. Характерной особенностью для стран со «зрелым» обществом является снижение потребления и замедление темпов инфляции, в то время как в «молодых» странах наблюдается противоположная ситуация.

Д. Снижение численности трудоспособного населения в развитых странах усиливает одну из глобальных проблем современности, связанную с экономическим и социально-культурным разрывом между развитыми и развивающимися странами.



Е. Для стран с высокой долей населения старшего возраста характерно развитие финансового рынка в связи с повышением количества потенциальных инвесторов.

2 Ответ: А, В, Е, Г

**7.3 (13).** В IX абзаце упоминается группа стран, экономики которых во второй половине прошлого века показали значительный рост. Выберите из предложенного списка страны, входившие в эту группу.

- А. Индия.
- Б. Чили.
- В. Гонконг.
- Г. Сингапур.
- Д. КНР.
- Е. Южная Корея.
- Ж. Бразилия.
- З. Япония.
- И. Турция.

6 Ответ: В, Ж, Г, Е

**7.4 (14-17).** Ниже приведены модели жизненных ситуаций, иллюстрирующих феномены, обсуждаемые в тексте. Соотнесите абзацы и соответствующие им модели. Каждой модели может соответствовать несколько абзацев.

- А. В марте 2023 года поиск персонала стал ещё более острой проблемой для работодателей. Всего за три месяца (с января по март) среднее число открытых вакансий выросло на 28,4 %. Примерно каждое четвёртое предложение в первом квартале 2023 года относилось к сфере торговли (27 % от общего числа). На отрасль производства и агропрома пришлось 13 %, а на сферу транспорта и логистики – 12 %.
- Б. В начале 1989 г. парламент Новой Зеландии принял закон, предоставлявший политическую независимость Центробанку и впервые в мировой истории обязывавший Центробанк ставить цель по инфляции для обеспечения ценовой стабильности, которую провозглашал единственной целью денежно-кредитной политики. За невыполнение цели по инфляции председатель Резервного банка нёс личную ответственность и мог лишиться поста.
- В. Поднятие целины в Казахской республике шло ударными темпами. В течение первого года было создано 337 зерновых совхозов. Посевная площадь их составила 10 млн га. План был перевыполнен уже в 1954 году. Тогда было распаханно свыше 6,5 млн га. Было добыто 7,65 млн тонн зерна. В следующем году, по сравнению с предыдущим, площади посева увеличились

более чем в два раза и достигли 20,6 млн га. Но из-за плохой погоды было собрано только 4,75 млн тонн зерна.

Г. Канадский учёный Дэвид Росс Черитон работал профессором информатики в Стэнфордском университете. В августе 1998 г. студенты из Стэнфорда Сергей Брин и Ларри Пейдж, трудившиеся над проектом интернет-поиска, встретились с Черитоном и он выписал чек на сумму 200 тыс. долларов. Это вложение принесло ему впоследствии более 1 млрд долларов прибыли.

7 Ответ:

А	Б	В	Г
3,4,5	7	1	7,8

**7.5 (18). Выберите выводы, которые можно сделать на основе содержания текста.**

- А. Несмотря на увеличение численности населения в мире, во многих странах наблюдается дефицит рабочей силы, решаемый за счёт привлечения мигрантов, переноса производства в другие страны или путём международного аутсорсинга.
- Б. Для экономического роста важна не столько численность населения страны, сколько коэффициент демографической нагрузки.
- В. В современной экономике одним из трендов становится экстенсивный рост, а именно увеличение рабочей силы, в том числе и за счёт миграционных потоков.
- Г. Процесс деглобализации постепенно становится одним из трендов в экономике во многом благодаря разрыву в уровне ВВП между развитыми и развивающимися странами.
- Д. Сокращение доли трудоспособного населения позволяет диктовать условия работодателям, увеличивая таким образом инфляционные риски.
- Е. Уровень инфляции и процентная ставка повышаются при снижении коэффициента демографической нагрузки.
- Ж. Увеличение объёмов экспорта, использование дешёвой рабочей силы, государственная поддержка промышленности могут стать причинами экономического роста в условиях старения населения для многих развивающихся стран.

4 Ответ: А, Б, Д, Е

